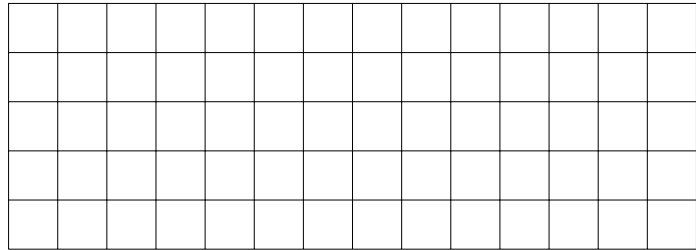
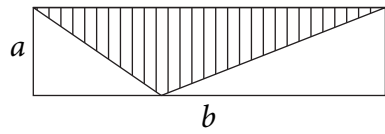


9. Дан прямоугольник со сторонами a и b . Внутри прямоугольника заштрихован треугольник (смотри рисунок). Вычисли в квадратных дециметрах площадь заштрихованного треугольника, если $a = 20,5$ см и $b = 80$ см.

Основание треугольника равно _____ и высота _____ .



Ответ: _____

Для учителя

4 балла


33

34

35

36

10. Стороны печи, имеющей вид прямого параллелепипеда, равны 80 см, 100 см и 220 см. Вычисли объём печи. Получилось больше или меньше, чем 2 м^3 ?



Ответ: _____

Для учителя

4 балла

37


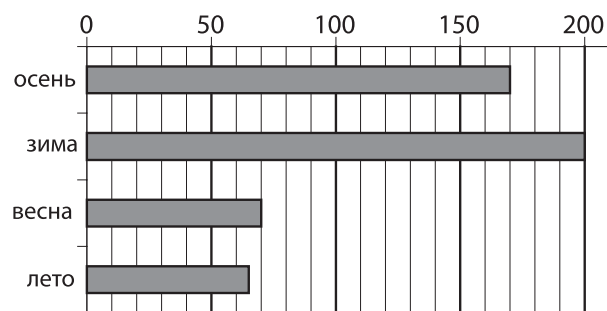
38

39

40

11. Столбчатой диаграммой представлено количество в миллиметрах выпавших в Таллинне годовых осадков во все четыре времени года.

- 1) Вычисли, сколько миллиметров осадков выпало в Таллинне за данный год.
- 2) Сравни количество осадков зимой и летом (письменно вычисли, когда выпало больше и на сколько миллиметров).



Ответ: 1) _____

2) _____

Для учителя

6 баллов

41

42

43

44

4

45

РЕСПУБЛИКАНСКАЯ УРОВНЕВАЯ РАБОТА МАТЕМАТИКА

6 КЛАСС

ВАРИАНТ Б

11 МАЯ 2006 г.

ИМЯ И ФАМИЛИЯ УЧЕНИКА _____

МАЛЬЧИК ИЛИ ДЕВОЧКА Возраст: _____ лет _____ месяцев

ШКОЛА _____

УЕЗД _____

ОЦЕНКИ ЗА 1-, 2-, 3-ю ЧЕТВЕРТИ _____

СУММА БАЛЛОВ ЗА РАБОТУ _____

ОЦЕНКА ЗА РАБОТУ _____

ПРИМЕЧАНИЯ

(коррекционное обучение, получение логопедической помощи, обучение по индивидуальной программе, язык домашнего общения отличается от языка обучения в школе)

