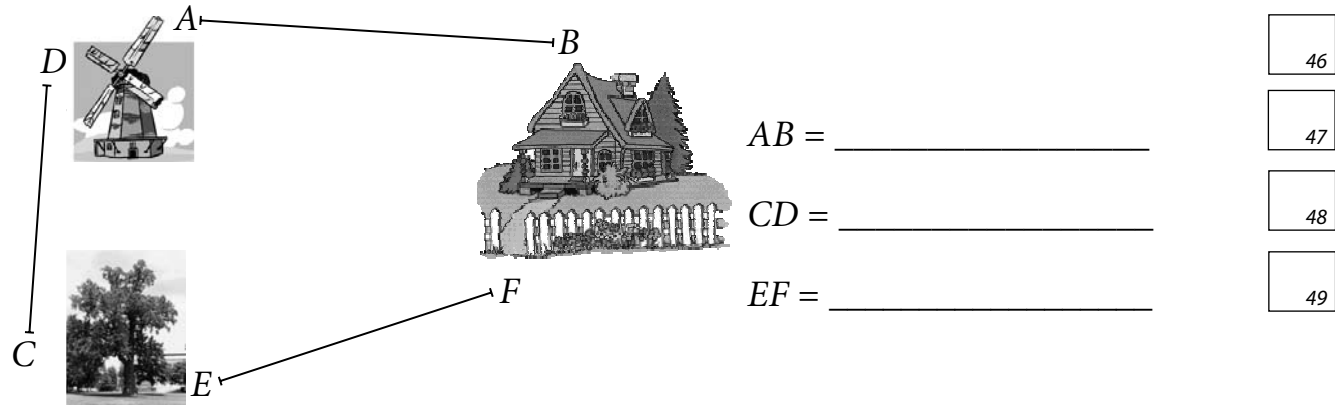


ЗАДАНИЕ 10.

А. Измерь отрезки пути туриста на карте в миллиметрах.

Для учителя
6 баллов



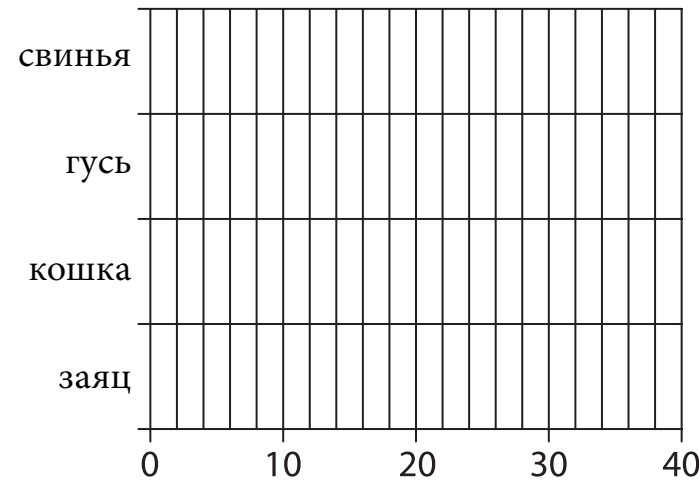
Б. Вычисли длину всего пути.

50 51

ДОПОЛНИТЕЛЬНЫЕ ЗАДАНИЯ

Дополнительные задания решай тогда, когда предыдущие задания решены и проверены.

1. Начерти диаграмму, показывающую продолжительности жизни животных. Данные найди в одном из ранее решённых заданий.



□

2. Реши числовой квадрат. Используй числа 1 - 4. Каждое число должно встречаться в одной строке и в одном столбце только один раз. Кроме того, в каждом из четырёх маленьких квадратов каждое число должно встречаться один раз.

	1	3	
3	4	2	1

		2	
	1		4
4		1	
	2		

□

RIIKLIK EKSAAMI- JA KVALIFIKATSIOONIKESKUS

**РЕСПУБЛИКАНСКАЯ УРОВНЕВАЯ РАБОТА
МАТЕМАТИКА**

3 КЛАСС ВАРИАНТ А

3 МАЯ 2007 г.

ИМЯ И ФАМИЛИЯ УЧЕНИКА _____

МАЛЬЧИК **ДЕВОЧКА**

ШКОЛА _____

УЕЗД _____ **ГОРОД** _____

ОЦЕНКИ ЗА 1-, 2-, 3-ю ЧЕТВЕРТИ _____

СУММА БАЛЛОВ ЗА РАБОТУ _____

ОЦЕНКА ЗА РАБОТУ _____

ПРИМЕЧАНИЯ

(коррекционное обучение, получение логопедической помощи, обучение по индивидуальной программе, язык домашнего общения отличается от языка обучения в школе)

ЗАДАНИЕ 1.

Запиши выражение и вычисли его значение.

Для учителя
8 баллов

Сумма равна 83. Второе слагаемое равно 28. Найди первое слагаемое.

_____ 1 2

Разность равна 26. Вычитаемое равно 37. Найди уменьшаемое.

_____ 3 4

Один множитель равен 8. Произведение равно 64. Найди второй множитель.

_____ 5 6

Делитель равен 8. Частное равно 4. Найди делимое.

_____ 7 8

ЗАДАНИЕ 2.

Для учителя

4 балла

Вычисли устно.

Три одноклассника зашли в кафе.

Ира заказала мороженое и салат. _____ кр.

Коля заказал салат и сок. _____ кр.

Миша заказал пирожное и салат. _____ кр.

Всего: _____ кр.

МЕНЮ		
		9 кр.
15 кр.		10
		18 кр.
10 кр.		11
		12

ЗАДАНИЕ 3.

10 баллов

Вычисли продолжительности жизни.

Кошка живёт $43 - 25 - 15 : 3 =$ _____ лет.

13	14	15
----	----	----

А свинья живёт $72 : 9 + 3 \cdot 4 =$ _____ лет.

16	17	18
----	----	----

Заяц живёт лишь $(32 + 16) : 8 =$ _____ лет.

19	20
----	----

Продолжительность жизни гуся $93 - 6 \cdot 9 =$ _____ лет.

21	22
----	----

ЗАДАНИЕ 4.

6 баллов

Переведи в нужные единицы.

6 м 80 см = _____ см

2 м 9 дм = _____ дм

23	24
----	----

7 кг 30 г = _____ г

5 км 600 м = _____ м

25	26
----	----

3040 м = _____ км _____ м

150 с. = _____ кр. _____ с.

27	28
----	----

ЗАДАНИЕ 5.

3 балла

После классного вечера ребята решили отнести пустые бутылки в пункт приёма стеклотары. Всего они собрали 24 пластмассовые и 18 стеклянных бутылок.

Что можно вычислить? Вычисли.

29

30

Ответ: _____



31

ЗАДАНИЕ 6.

Для учителя

4 балла

На какие геометрические тела похожи эти предметы?



32	33
----	----

34	35
----	----

ЗАДАНИЕ 7.

5 баллов

На пасеке у дедушки начали собирать пчелиный мёд. В первый день собрали 36 кг мёда. Во второй день собрали в 4 раза меньше. Сколько кг мёда собрали за два дня вместе?

36

37

38

39

40

Ответ: _____

ЗАДАНИЕ 8.

4 балла

Запиши даты цифрами.

Занятия в школе начинаются первого сентября. _____

41

Зима начинается двадцать второго декабря. _____

42

Весенние каникулы начались семнадцатого марта. _____

43

Международный день защиты животных отмечают четвёртого

октября. _____

44

ЗАДАНИЕ 9.

1 балл

Ученики 3 класса отправились в лес и в 10.30 начали сажать деревья.

Работа продолжалась 1 ч 30 мин. В котором часу закончилась работа?

Ответ: _____

45
