

ЗАДАНИЕ 9.

Для учителя

4 балла

Запиши даты цифрами.

Пример: Мой день рождения десятого апреля 10.04.

В эстонском народном календаре есть следующие даты:

День Михкеля двадцать девятого сентября

Иванов день двадцать четвёртого июня

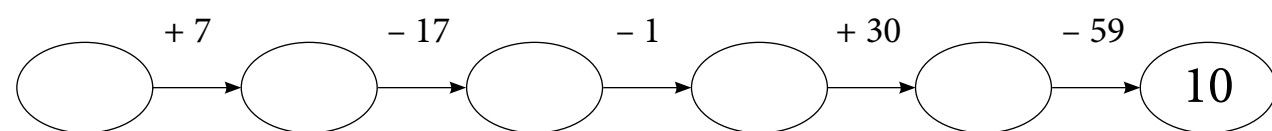
Катеринин день двадцать пятого ноября

День Тыниса семнадцатого января

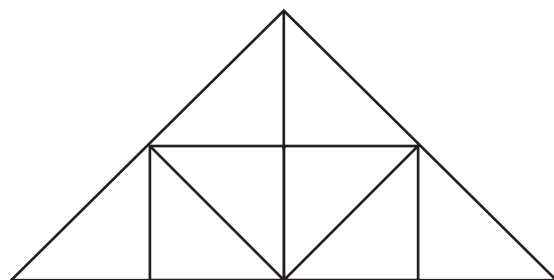
ДОПОЛНИТЕЛЬНЫЕ ЗАДАНИЯ

Дополнительные задания решай тогда, когда предыдущие задания решены и проверены.

1. Запиши недостающие числа.



2. Сколько квадратов и сколько треугольников на рисунке?



Ответ: на рисунке квадрата и треугольников.

**РЕСПУБЛИКАНСКАЯ УРОВНЕВАЯ РАБОТА
МАТЕМАТИКА**

3 КЛАСС

ВАРИАНТ Б

3 МАЯ 2006 г.

ИМЯ И ФАМИЛИЯ УЧЕНИКА _____

МАЛЬЧИК **ДЕВОЧКА** **Возраст:** _____ **лет**

ШКОЛА _____

УЕЗД _____ **ГОРОД** _____

ОЦЕНКИ ЗА 1-, 2-, 3-ю ЧЕТВЕРТИ _____

СУММА БАЛЛОВ ЗА РАБОТУ _____

ОЦЕНКА ЗА РАБОТУ _____

ПРИМЕЧАНИЯ

(коррекционное обучение, получение логопедической помощи, обучение по индивидуальной программе, язык домашнего общения отличается от языка обучения в школе)

ЗАДАНИЕ 1.

Для учителя

8 баллов

Запиши выражение и вычисли его значение.

Одно слагаемое равно 34. Сумма равна 63. Найди второе слагаемое.

Вычитаемое равно 45. Разность равна 17. Найди уменьшаемое.

Один множитель равен 7. Произведение равно 56. Найди второй множитель.

Делитель равен 6. Частное равно 8. Найди делимое.

ЗАДАНИЕ 2.

1 балл

Классный вечер начался в 15.15. Вечер продолжался 1 ч 45 мин.

В котором часу окончился классный вечер?

Ответ:

RIIKLIK EKSAAMI- JA KVALIFIKATSIOONIKESKUS

ЗАДАНИЕ 3.

Изучи рисунки и запиши ответы. Вычисляй устно.

Для учителя
5 баллов



- 2 гамбургера стоят кр.
- 1 булка и 3 гамбургера стоят кр.
- 2 булки и 1 пирожное стоят кр.
- 2 пирожных и 1 буханка хлеба стоят кр.
- 1 буханка хлеба, 1 гамбургер и 1 булка стоят кр.

ЗАДАНИЕ 4.

Вычисли.

10 баллов

$(27 + 45) : 9 =$

$18 + 7 \cdot 7 =$

$40 : 5 + 4 \cdot 5 =$

$44 - 29 + 18 : 3 =$

ЗАДАНИЕ 5.

Переведи в нужные единицы.

6 баллов

4030 м = км м 8 км 600 м = м

5 м 20 см = см 7 м 3 дм = дм

170 с. = кр. с. 9 кг 10 г = г

RIIKLIK EKSAAMI- JA KVALIFIKATSIOONIKESKUS

ÜLERIIGILINE TASEMETÖÖ MATEMAATIKA 3. KLASS 2006

ЗАДАНИЕ 6.

Запиши недостающую единицу массы (г, кг, т).

Для учителя
5 баллов

Пачка масла весит 200

Пачка чая весит 50

Грузовой автомобиль весит 5

Легковой автомобиль весит 1200

Мальчик весит 42

ЗАДАНИЕ 7.

5 баллов

На автостоянке стоят 28 автомашин. Мотоциклов в два раза меньше, чем автомашин. Сколько автомашин и мотоциклов на автостоянке вместе?

.....

.....

.....

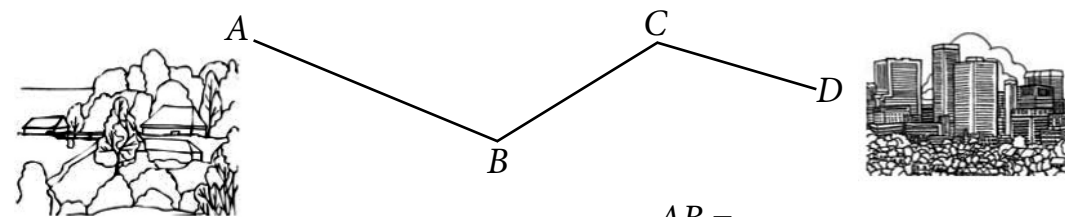
.....

Ответ:

ЗАДАНИЕ 8.

6 баллов

А. Измерь отрезки пути на карте в миллиметрах.



AB =

BC =

CD =

Б. Вычисли длину всего пути.

.....