

ÜLERIIGILINE KATSELINE TASEMETÖÖ

INFOTEHNOLOOGIA

9. KLASS

30. APRILL 2003

VARIANT B

ÕPILASE NIMI _____

POISS VÕI TÜDRUK

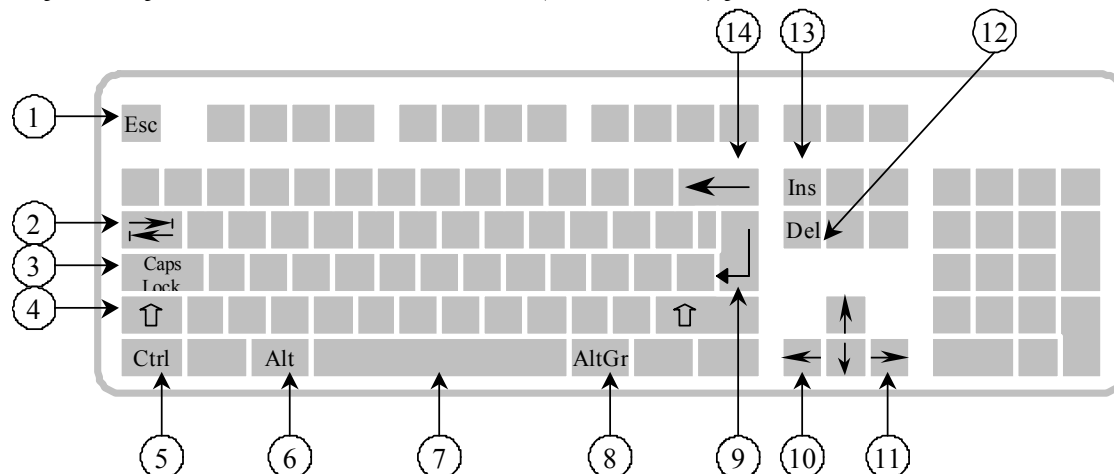
KOOL _____

MAAKOND _____ LINN _____

TASEMETÖÖ PUNKTISUMMA _____

TASEMETÖÖ HINNE _____

1. **Sea vastavusse alltoodud tegevused ja klaviatuuri klahvid! Selleks kirjuta tegevuse kirjelduse järele vastava klahvi number (või numbrid) jooniselt.**

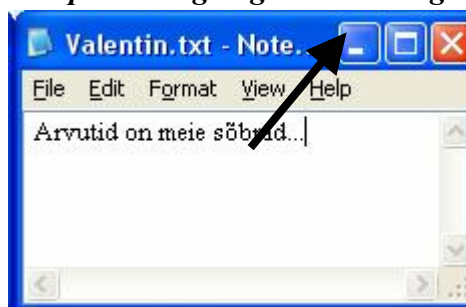


5 punkti

- tahad valida dialoogiaknas parajasti aktiivse vastuse OK – ...
- tahad kustutada kursorist paremal asuvat märki – ...
- tahad liigutada kursorit teksti sees ühe koha võrra paremale – ...
- tahad sisestada klahvi kolmandat märki (näiteks @, {, [, š) – ...
- tahad trükkida ainult suurtähtedega – ...

2. **Mis toimub pärast hiireklõpsu noolega näidatud nupul? Märki õige vastus ristiga.**

- Suurendatakse programmiaken kogu ekraani suuruseks
- Suletakse programmiaken
- Kustutatakse avatud tekstidokument
- Taastatakse programmiakna suurus
- Minimeeritakse programmiaken



2 punkti

3. **On antud kahe arvutikomplekti, Brutus ja Essex, kirjeldused. Vali, millisega neist saad sa Internetis surfata ja millisega on parem arvutimänge mängida. Kirjuta vastava komplekti nimi lahtrisse.**

1) Internetis surfamiseks on parem:

2) Mängude jaoks on parem:

4 punkti

Brutus

Intel® Pentium® 4, protsessor 2,4Ghz, operatiivmälu 256MB, HDD 40GB, 52x CD, 64MB GeForce MX440 graafikakaart, helikaart, kõlarid, klaviatuur, hiir

Essex

Intel® Celeron® 1,2Ghz, operatiivmälu 128MB, HDD 50GB, 52x CD, klaviatuur, 10/100 Mbps võrgukaart, hiir

4. **Õpetaja koostas tekstitoimetil MS Word referaadi vormistamise juhendi ja lubas selle elektronpostiga kõigile õpilastele saata. Saad õpetajalt elektronkirja, mille manuses on fail juhend.zip. Mida teed? Vali üks variant.**

- Õpetaja on kogemata pannud failile vale laiendi, nimetad faili ümber juhend.doc ja avad tekstitoimetiga MS Word.
- Õpetaja on kogemata kaasa pannud vale faili. Vastad kirjale ja palud saata õige faili.
- Õpetaja on faili kokku pakkinud (tihendanud), pakid faili lahti ja avad tekstitoimetis MS Word.
- Fail on nakatatud zip-viirusega, kustutad faili kiiresti ja hoiatad ka kaasõpilasi.

2 punkti

5. *Jooni alla kõik alljärgnevas tekstilõigus leiduvad vormistusvead.*

Kui-temal-tõesti-kraamp-jalas-oleks,ootaks-ta-siis-veel-kõstri-õpetusi. Küllap-tema-kraambiga-juba-toime-tuleb,tehku-Julk-Jüri-oma-peenraid-ise-ja-kälvaku-sinna-kas-või-umbrohtu. Jah,just-nimelt-kälvaku-umbrohtu,aga-jätka-tema-jalg-rahule. Jalg-on-jalg,ja-peenar-on-peenar.

4 punkti

6. *Sea ingliskeelne menüükorraldus vastavusse eestikeelse vastega, kirjutades joone peale õige vaste ees oleva tähe (A, B, C ...).*

- | | |
|-------------------|----------------------|
| ___ Copy | A) Nummerdatud loend |
| ___ Open | B) Välju |
| ___ Numbered list | C) Ava |
| ___ Heading | D) Kopeeri |
| ___ Footer | E) (E-kirja) teema |
| ___ Subject | F) Pealkiri |
| ___ Delete | G) Jalus |
| ___ Exit | I) Kustuta |

4 punkti

7. *Malle tahtis kasutada otsimootorit ja sisestas brauseri aadressribale aadressi www.neti.com. Vastuseks sai ta hieroglüüfidega täidetud lehekülje. Mida tegi Malle valesti?*

2 punkti

8. *Leia kummalegi tabelile kõige paremini sobiv diagrammitüüp. Kirjuta tabeli juures paikneva ruudu sisse vastava diagrammi tüübi tähis (A, B või C).*

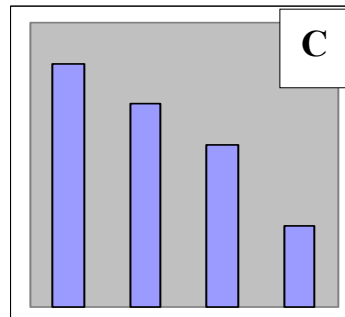
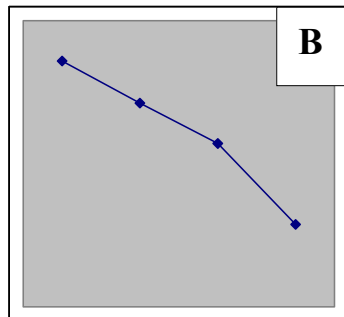
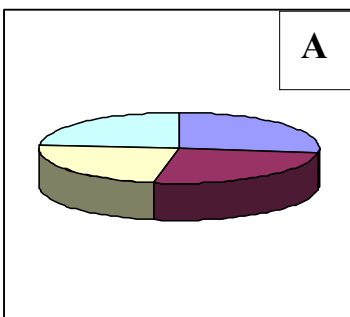
4 punkti

A) Osalejate jaotus reaalainete olümpiaadil.

Informaatika	38	
Matemaatika	36	
Füüsika	34	
Keemia	31	

B) Dollari kursi muutus

	Jaanuar	14,7
	Veebruar	14,6
	Märts	14,5
	Aprill	14,3



9. Kas tohid oma referaadis ilma algallikale viitamata ja sõnastust muutmata kasutada tekstilõike, mis on kopeeritud teiste inimeste poolt loodud Internetilehekülgedelt? Märki ristiga ainult üks vastusevariant.

2 punkti

- jah, sest Interneti üles seatud tekstidele ei laiene autoriõigused,
- jah, kui seal pole märget "Kõik õigused reserveeritud", "Copyright" või ©,
- ei, sest Internetist leitud infot ei tohi üldse referaadis kasutada,
- ei, sest Interneti-lehekülgedel avaldatud tekstidele laienevad samasugused autoriõigused kui raamatutele.

10. Arvuti annab salvestamisel alljärgneva veateate. Mis võis selle põhjustada?

2 punkti

The file already exists. Do you want to replace the existing file?

11. Riina soovis leida Internetist infot eesti haruldaste linnuliikide kohta. Ta sisestas Neti otsimootoris sõna "Punane" ja sai esimese viie tulemusena alljärgnevad viited. Mitmendast viitest võib Riina leida kõige usaldusväärsemat, põhjalikumat ja ajakohasemat teavet haruldaste linnuliikide kohta Eestis? Kirjuta parima viite järjekorranumber ruudu sisse:

2 punkti

- 1 Selver (Punane Selver, Kadaka Selver, Pirita Selver) Toidukaubad. Müük
NETI:/ÄRI/Kaubamajad
URL: <http://www.selver.ee/>, 30.06.00
- 2 Punane Baar Diskoteek. Kuressaare
NETI:/MEELELAHUTUS JA HOBID/Toitlustus ja Ajaviide
URL: <http://www.punane.ee/>, 28.03.03, 9 kb
- 3 Eesti Punane Rist
NETI:/VARIA/Sotsiaalabi ja Eluabi/Kuritegevus ja Turvalisus
URL: <http://www.redcross.ee/>, 14.06.01, 9 kb
- 4 Eesti Punane Raamat
URL: <http://www.zbi.ee/punane/>, 16.02.02, 4 kb
[otsi lisaks www.zbi.ee'st]
- 5 punane aruhein - liigikirjeldus
URL: <http://sunsite.ee/taimed/oistaim/puaruhein.htm>, 27.05.01, 2 kb

Valikülesanded (vali neist ainult üks!)

12. Millist tarkvara tuleb lugeda ebaseaduslikuks e. piraattarkvaraks? Märki ainult üks, kõige täpsem vastusevariant!

4 punkti

- Endavalmistatud koopiad kooli arvutiklassis leiduvatest CD-ROMidest.
- Turult ostetud turvakleebiseta CD-ROM.
- Naabrilt laenatud CD-ROMilt teie koduarvutisse installeeritud MS Office.
- Kõik eelpool loetletud variandid on ebaseaduslikud.

13. Kooli ansambli esinemist kool lõpupeol võib kooli veebis näha videofailina, kuulata audiofailina, samas lugeda esitatud laulu sõnu tekstifailina. Järjesta need failid suuruse järgi, kirjutades kõige suuremale ette 1, keskmisele 2 ja väikseimale 3.

4 punkti

- tekstifail videofail audiofail