

**РЕСПУБЛИКАНСКАЯ
ПРОБНАЯ УРОВНЕВАЯ РАБОТА
ИНФОТЕХНОЛОГИЯ**

9 КЛАСС

29 АПРЕЛЯ 2004

ВАРИАНТ В

ИМЯ И ФАМИЛИЯ УЧЕНИКА _____

МАЛЬЧИК ДЕВОЧКА

ШКОЛА _____

УЕЗД _____ ГОРОД _____

СУММА БАЛЛОВ ЗА ПРАКТИЧЕСКОЕ ЗАДАНИЕ _____

СУММА БАЛЛОВ ЗА ТЕСТ _____

СУММА БАЛЛОВ ЗА ВСЮ РАБОТУ _____

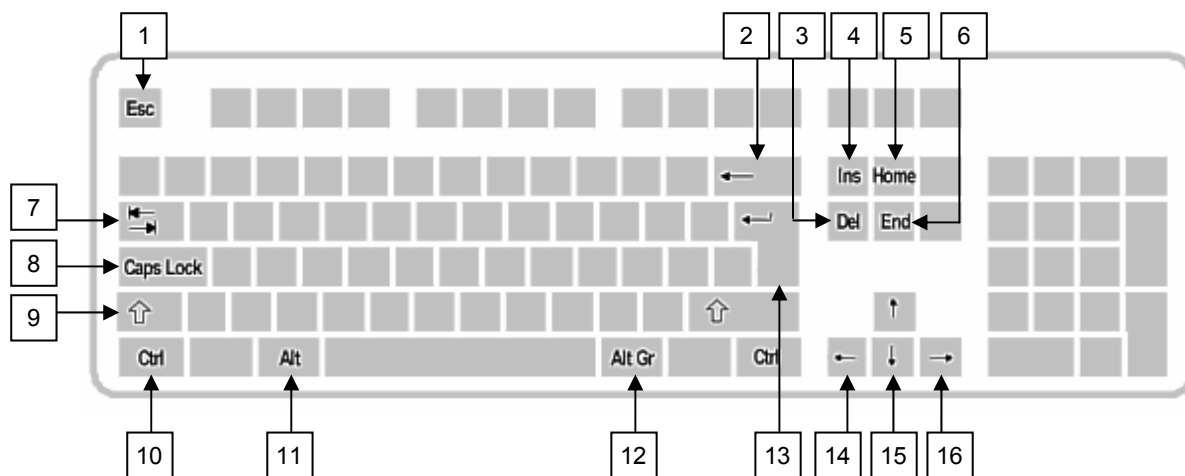
ОЦЕНКА ЗА РАБОТУ _____

ПРИМЕЧАНИЯ _____

(коррекционное обучение, получение логопедической помощи, учится по индивидуальной программе, язык домашнего общения, отличающийся от языка обучения в школе)

1. Укажи клавиши клавиатуры, соответствующие указанным действиям! Для этого перед описанием действия напиши номер соответствующей клавиши из рисунка.

5 баллов



- ___ хочешь начать ввод текста с новой строки
- ___ хочешь удалить символ, находящийся справа от курсора
- ___ хочешь поместить курсор в конец строки
- ___ текст вводится заглавными буквами, а ты хочешь, чтобы были маленькие
- ___ хочешь, чтобы текст не переписывался при вводе нового

2. Миша хочет купить новый компьютер. В магазине ему предложили следующую конфигурацию:

5 баллов

Intel Pentium 4 2,8GHz, 512MB DDR, HDD 80GB 7200 rpm, GeForce 128MB TV-out, 10/100 Mbps, RedHat Linux 9.

Входит ли (ответь **да** или **нет**) в данный комплект:

- | | |
|-------------------------|--------------------------------|
| 1. процессор? | 4. CD-ROM? |
| 2. монитор? | 5. операционная система? |
| 3. сетевая карта? | |

3. Укажи перед расширением файла, о каком типе файла (А, В или С) идет речь. Оставь ячейку пустой, если ни один вариант ответа не подходит.

6 баллов

- | | | |
|-----------------------------|---------|---------|
| А Звуковой файл | ___ zip | ___ rtf |
| В Текстовый файл | ___ bmp | ___ wav |
| С Файл графического формата | ___ mp3 | ___ gif |

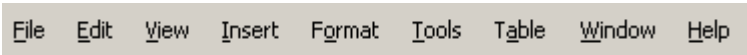
4. Укажи перед каждым компонентом компьютерного оборудования, о каком типе компонента (А, В или С) идет речь. Оставь ячейку пустой, если ни один вариант ответа не подходит.

6 баллов

- А Носитель данных ___ материнская плата ___ микрофон
 В Устройство ввода ___ сканер ___ монитор
 С Устройство вывода ___ CD-ROM ___ флеш диск (USB flash disk)

5. Панель меню твоего текстового редактора выглядит таким образом:

3 балла



В каком меню найдешь следующие действия (на пунктирной линии напиши название соответствующего меню)?

1. добавление картинки в документ
 2. копирование текста
 3. выход из редактора

6. В левой графе таблицы буквами обозначены понятия, в правой представлены примеры некоторых понятий. Напиши перед каждым примером букву, соответствующую правильному понятию.

3 балла

Понятия:	Примеры:
A браузер	___ riik.ee
B операционная система	___ Linux
C доменное имя	___ Internet Explorer
D фирма-производитель программного обеспечения	
E веб-поисковая система	
F URL	

7. В левой графе таблицы буквами обозначены понятия; в правой представлены объяснения некоторых понятий. Напиши перед каждым объяснением букву, соответствующую правильному понятию.

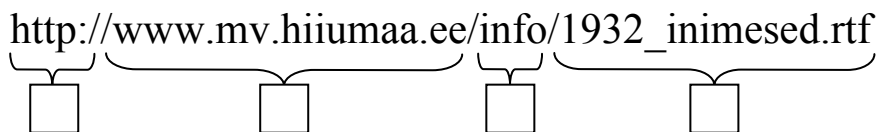
3 балла

Понятия:	Объяснения:
A браузер	___ среда общения в Интернете
B почтовая программа	___ программа для чтения электронных писем
C ftp	___ веб-сайт с разнообразными услугами для пользователя
D вложение письма	
E форум	
F URL	
G портал	

8. Впиши в каждую ячейку обозначение соответствующей части адреса:

4 балла

A – имя файла, B – веб-сервер, C – обозначение диска,
D – протокол, E – каталог, F – название учреждения



9. Катя хотела почитать в Интернете газеты SL Õhtuleht. Она ввела в адресную строку браузера адрес www.sl ohtuleht.ee, однако страница не открылась. В чём ошибка?

2 балла

.....

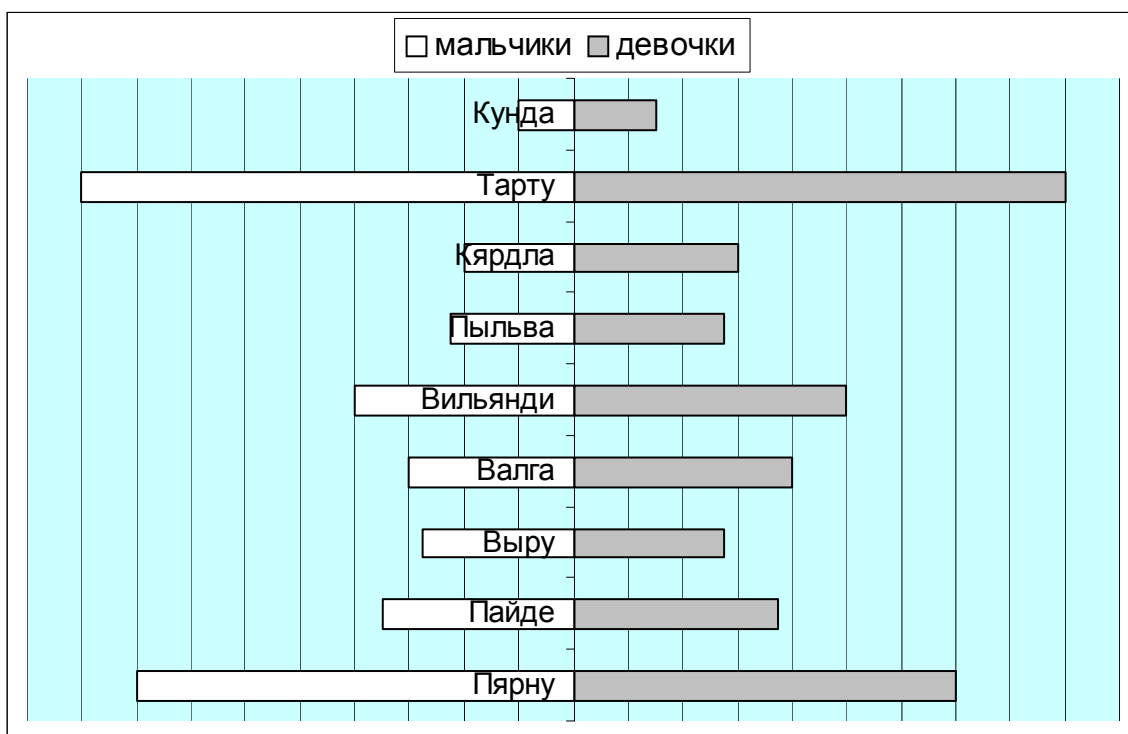
10. На графике изображено количество учащихся в 7-ом – 9-ом классах учеников, проживающих в разных городах. Одно деление соответствует 20-и ученикам. По данным графика найди ответы на следующие вопросы:

3 балла

В каком городе живет меньше всего девочек, уч-ся в 7-9 классах? _____

Где живет больше учеников 7-9 классов, в Выру или в Пыльва? _____

В каком городе живет 100 девочек, учащихся в 7-9 классах? _____



11. В приведенном ниже тексте впиши вертикальную черту туда, где по твоему мнению пробел отсутствует, а лишний пробел – подчеркни. (Все символы имеют одинаковую ширину.)

6 баллов

Laua -, samuti sülearvutiga , kasutatakse erinevaid sisend- ja väljundseadmed .Üha enam leiab kasutamist andmekandjana DVD (mahutab gigabaitides andmeid).

12. Чем рискуешь больше всего, скачивая пиратские игры с помощью программ файлового обмена?

2 балла

1. Продуктивность моего компьютера не обязательно будет достаточной для игр.
2. Игры, находящиеся в сети могут содержать вирусы или троянских коней, которые начнут мешать работе компьютера.
3. За моими действиями наблюдает полиция (через интернет), и завтра у меня заберут компьютер.
4. Связь прервется раньше, чем я успею скачать игру, поэтому проинсталлировать игру я не смогу.

Номер правильного варианта ответа:

13. С адреса друга тебе приходит письмо с темой "test" и приложенным файлом picture.vbs. Обозначь крестиком действия, которые без опаски можно совершить.

4 балла

- Отошлешь письмо (вместе с приложенным файлом) обратно другу с вопросом – может ли он открыть эту картинку для просмотра
- Попробуешь открыть приложенный файл для просмотра
- Удалишь это письмо
- Спросишь совета у системного администратора – что делать

14. Ты получил письмо со следующим содержанием: "Посланное вами письмо на адрес priit@kool.ee невозможно переслать. Причина: вместимость диска превышена". Обозначь крестиком наиболее правильное действие:

2 балла

- Снова пошлешь свое письмо на адрес priit@kool.ee
- Отправишь Прийту электр. письмо (на адрес priit@kool.ee), в котором сообщишь, что его почтовый ящик переполнен
- Позвонишь своему другу Прийту и скажешь ему, что его почтовый ящик переполнен

15. Какое из перечисленных действий является созданием резервной копии? Обозначь крестиком все подходящие ответы.

3 балла

- Помещение запарованного файла в другой каталог.
- Создание ссылки на файл из другого каталога или с рабочего стола.
- Переименование файла на reservnaja_kopija.zip.
- Копирование файла в другой каталог.
- Копирование файла с одного компьютера на другой (через компьютерную сеть)
- Копирование файла на CD.