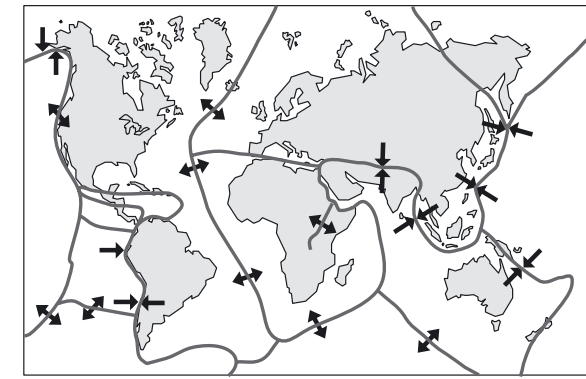


8. Ответь на приведенные ниже вопросы на основе информации рисунка.



8.1. Назови геологические процессы в Исландии, связанные с движением литосферных плит.

- 1) _____
 2) _____
 3) _____

Täidab hindaja

1,5 p

— границы плит → направление движения плит

8.2. Почему в Андах есть действующие вулканы, а в Скандинавских горах нет?

1 p

9.1. Как образуются магматические горные породы? _____

1 p

9.2. Правильно ли утверждение?

Утверждение: В магматических горных породах можно найти окаменевшие остатки древних организмов, или окаменелости.

Решение: да/нет

Обоснуй свой ответ. _____

1 p

1 p

10. Какая из перечисленных горных пород магматическая? Отметь правильный ответ X-ом.

- A. известняк
 B. сланец
 C. глина
 D. гранит
 E. песчаник

1 p

11. Из чего образуется минеральная часть почвы? Отметь правильный ответ X-ом.

- A. из остатков растений
 B. из остатков животных
 C. из почвенного воздуха
 D. из материнской породы
 E. из почвенных вод

1 p

ВЫПУСКНОЙ ЭКЗАМЕН ПО ГЕОГРАФИИ

15 ИЮНЯ 2010

Баллы	<input type="text"/>
Экзаменационная оценка	<input type="text"/>
Годовая оценка	<input type="text"/>

Имя и фамилия: _____

Личный код:

Школа: _____

Уезд/город: _____

ПАМЯТКА

1. Ответы пиши ясным почерком, шариковой или чернильной ручкой.
2. При необходимости исправления, зачеркни ту часть ответа, которая не должна оцениваться. Не разрешается пользоваться ручкой-корректором.
3. **Перед тем как отвечать, внимательно прочти и обдумай текст задания. Свои ответы записывай коротко и ясно.**
4. Спокойно обдумывайте ответы, не торопитесь – в вашем распоряжении 150 минут (на I и II часть вместе).

I. ЧАСТЬ

Внимание! При выполнении заданий I части нельзя пользоваться атласом.

1. Напиши на карте, в соответствующие места, названия перечисленных ниже географических объектов.

Täidab hindaja



- A) Карибское море B) Река Конго C) полуостров Индостан
 D) Миссисипи E) Гималаи F) Большой Водораздельный хребет

A) 0,5 p

B) 0,5 p

C) 0,5 p

D) 0,5 p

E) 0,5 p

F) 0,5 p

RIIKLIK EKSAAMI- JA KVALIFIKATSIOONIKESKUS

2. Прочти текст и ответь на вопросы.

Алесь по национальности белорус, который родился и вырос в Эстонии. Его родители приехали в Эстонию после женитьбы в 1980 году. К тому времени дядя Алесь жил уже два года в Таллинне. В то время условия работы и жизни в Эстонии были лучше, чем в других частях Советского Союза. Здесь предлагали разнообразную работу, а переселенцев обеспечивали жильем.

В начале 1990-х годов семьи многих одноклассников Алесь уехали из Эстонии – в Россию, Украину, Белоруссию. Родители Алесь тоже обдумывали возможность вернуться в Белоруссию, но, все же, решили остаться в Эстонии. Они прижились здесь, выучили эстонский язык, и не хотели уезжать.

2.1. Какие причины побудили семью Алесь переселиться из Белоруссии в Эстонию?

- 1) _____
- 2) _____
- 3) _____

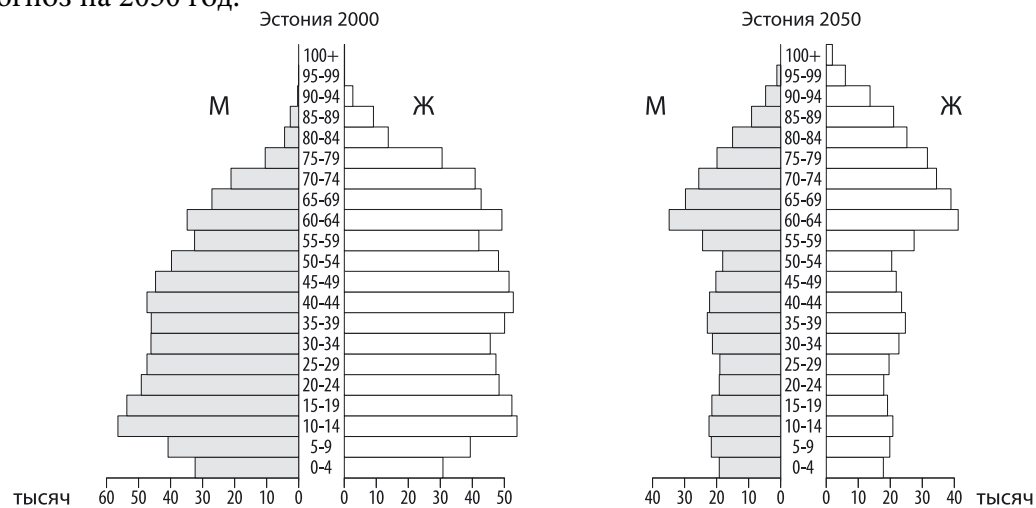
Täidab hindaja

2 p

2.2. Почему в начале 1990-х годов происходил активный выезд населения из Эстонии?

1 p

3. Пирамиды населения показывают половозрастную структуру населения Эстонии в 2000 году и прогноз на 2050 год.



3.1. В 2000 году Мартину было 16 лет. Заштрихуй на соответствующей пирамиде ту половозрастную группу, к которой принадлежал Мартин в 2000 году.

1 p

3.2. Заштрихуй на пирамиде 2050 года ту половозрастную группу, к которой будет принадлежать Мартин в тот год.

1 p

3.3. Почему обе диаграммы сужены снизу? _____

1 p

3.4. Почему в диаграмме 2050 года узкая часть поднимается выше? _____

1 p

3.5. Почему пожилых мужчин меньше, чем пожилых женщин? _____

1 p

4. Приведи пример факторов, которые способствуют или препятствуют развитию туристического бизнеса в Эстонии.

Täidab hindaja

Факторы, способствующие туристическому бизнесу:

- 1) _____
- 2) _____

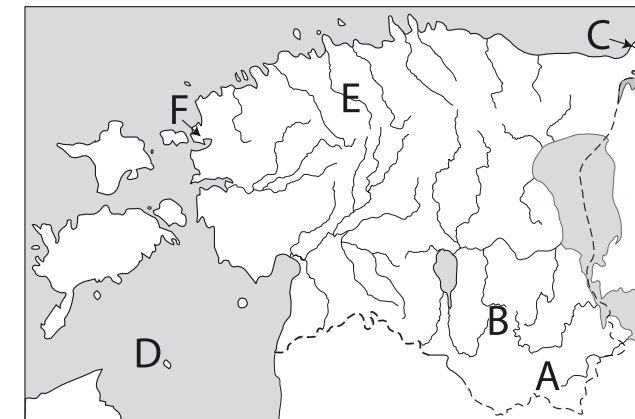
2 p

Факторы, препятствующие туристическому бизнесу:

- 1) _____
- 2) _____

2 p

5. Напиши на соответствующие линии названия объектов, обозначенных на карте Эстонии буквами **A–F**.



- A) _____ (возвышенность) 0,5 p
- B) _____ (возвышенность) 0,5 p
- C) _____ (река) 0,5 p
- D) _____ (остров) 0,5 p
- E) _____ (река) 0,5 p
- F) _____ (полуостров) 0,5 p

6. Поясни на примерах, как формируют формы рельефа следующие факторы:

- a) движение литосферных плит _____
- b) реки _____
- c) человеческая деятельность _____

3 p

7.1. Какой график (**A** или **B**) показывает изменение содержания углекислого газа в атмосфере? Отметь правильный ответ **X**-ом.

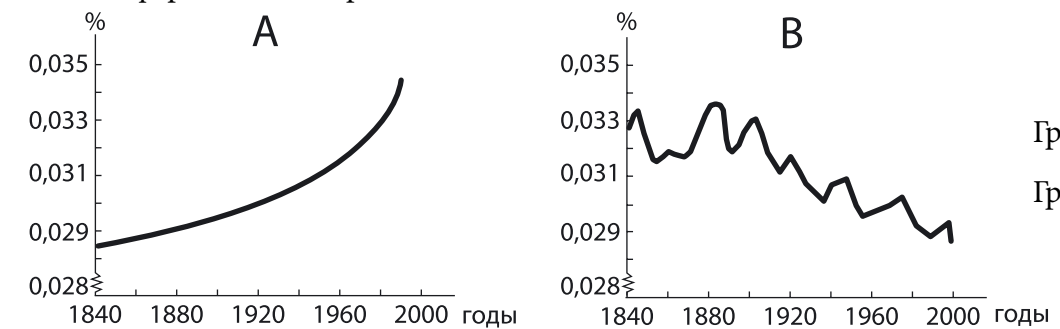


График А

График В

1 p

7.2. Приведи примеры возможных последствий этих изменений.

- 1) _____
- 2) _____

2 p